

یہاں سے کاٹئے

Question Paper Serial No. 21

A

**CCE RF
CCE RR
REVISED**

بٹپٹو مومدیت پوٹنگل سونڈی: 8]

Total No. of Printed Pages : 8]

بٹپٹو پوٹئگول سونڈی: 38]

Total No. of Questions : 38]

سونکیت سونڈی : **85-U**

Code No. : 85-U

ویسوم : سوموج ویسونس

Subject : SOCIAL SCIENCE

(لومو بھوسونوٹر / Urdu Version)

(ہوس پوٹوکوم / New Syllabus)

(آلہ اہڈیڈی & پونرووٹیت آلہ اہڈیڈی/ Regular Fresh& Regular Repeater)

دینونک : 09. 04. 2020]

[Date : 09. 04. 2020

سوموم : بیگنی 9-30 رند مڈیوٹ 2-45 رورنگی] [Time : 9-30 A.M. to 12-45 P.M.

گروٹو اونکگول: 80]

[Max. Marks : 80

عم ہدایات :

1. سونونامہ معروضی (Objective) اور موضوعی (Subjective) قسم کے سوالوں پر مشتمل ہے جس میں 38 سوالات ہیں۔

2. اس سونونامہ کو سرہمہر کر دیا گیا ہے۔ امتحان شروع ہونے کے وقت آپ کو پرچہ پڑھنے کے لئے اسے بائیں طرف سے کاٹنا ہوگا۔ اچھی طرح دیکھ لیں کہ سونونامہ کے سبھی صفحات ٹھیک ٹھاک ہیں۔

3. معروضی اور موضوعی دونوں قسم کے سوالوں کے لئے دی گئی ہدایات کے مطابق جواب لکھیں۔

4. بائیں ہاتھ کے حاشئے پر پورے مارکس دئے گئے ہیں۔

5. جواب دینے کا زیادہ سے زیادہ وقت سونونامہ کے اوپر دیا گیا ہے۔ اس میں سونونامہ پڑھنے کے لئے 15 منٹ شامل ہیں۔

TEAR HERE TO OPEN THE QUESTION PAPER

اس مقام سے کاٹ کر سوال پڑھوئے

Tear here

Turn over]

©©©

RF & RR (A) - 333

21

I. مندرجہ ذیل سوالات/ نامکمل بیانات میں سے ہر ایک کے لیے چار متبادل دیے گئے ہیں۔ ان میں سے صرف ایک صحیح یا مناسب

$$8 \times 1 = 8$$

ترین ہے۔ صحیح متبادل چنیں اور حرف تہجی کے ساتھ مکمل جواب اپنے جوابی پرچہ میں لکھیں۔



1. 1453 میں قسطنطنیہ نے کس شہر پر قبضہ کر لیا۔

(A) عرب (B) عثمانی ترک



(C) اٹلی (D) پرتگال

2. بھارت چھوڑ دو تحریک نے کئی غیر کانگریسی رہنماؤں کو آگے بڑھایا اور حصہ لیا۔

دی گئی فہرست سے غیر کانگریسی لیڈر کو پہچانئے۔



(A) کستور باگانڈھی

(B) ڈاکٹر بی آر امبیڈکر



(C) جے پرکاش نارائن

(D) مولانا ابوالکلام آزاد

3. ہندوستان کے وہ کون سے وزیر اعظم ہیں جنہوں نے باہمی بین الاقوامی رابطے کے لئے پنج شیل اصولوں کو اپنایا اور چین کے



وزیر اعظم چوئن لائی کے ساتھ دستخط کیا۔

(A) پنڈت جواہر لال نہرو (B) لال بہادر شاستری



(C) اندرا گاندھی (D) اٹل بہاری واجپائے

4. ”بالیکا کینڈرا تنظیم“ کو ریاست کے کس ادارہ نے اپنایا جس کے تحت تمام لڑکیوں کو متحد کرنا ہے۔

(A) بچوں کی حقوق کمیٹی (B) بچوں کا گرام سبھا



(C) بچوں کی تحفظی کمیٹی (D) آنگن واڑی

5. کارگل کے قریب ڈرانس میں سب سے کم درجہ حرارت ریکارڈ درج ہے۔ کیونکہ



(A) سورج کی شعاعیں جنوب نصف کرہ پر عموداً پڑتی ہیں۔



(B) سمندر کے قریب ہے

(C) سطح مرتفع سمندر سے اوپر ہے

(D) جنوب مغربی مانسون سے تعلق ہے



6. دستور کی دفعہ 21 کے تحت

(A) دلتوں کی تعلیمی حقوق کی حمایت کرنا اور فروغ دینے کو حکومتوں کی ذمہ داری قرار دیتا ہے



(B) اقلیتوں کے ثقافتی حقوق کو تحفظ فراہم کرتا ہے

(C) حکومت کی ذمہ داری ہے کہ تمام لوگوں کو فلاح و بہبودی اور سماجی انصاف ملے۔

(D) تعلیم ہر بچے کا بنیادی حق ہے۔



7. حکومت بغیر ٹیکس کی آمدنی دیگر ذرائعوں سے اکٹھا کرتی ہے۔

(A) اشیاء اور خدماتی ٹیکس (GST)

(B) مختلف قسم کی فیس اور جرمانوں سے



(C) درآمدات و برآمدات ٹیکس

(D) اسٹامپ ڈیوٹی (Stamp Duty)



8. وہ صنعت کار جو ”سفید انقلاب کے باوا آدم کہلاتے ہیں۔“

(B) نریش گوہیل






(A) ڈاکٹر پرتاب رڈی

(D) کرن مجدد ارشا



(C) وارگیز کورائین

$$8 \times 1 = 8$$

.II مندرجہ ذیل سوالات کے جوابات ایک جملے میں لکھئے :



9. دو عملی حکومت کس نے قائم کی؟ 
10. ”ستی“ رواج کے خلاف آواز اٹھانے کے لئے کس انگریز افسر نے راجا رام موہن رائے کا ساتھ دیا؟ 
11. ”عالمی انسانی حقوق“ کا تحفظ کب منایا جاتا ہے؟ 
12. لڑکیوں کا جینی قتل سے کیا مراد ہے؟
13. ”ٹراپکی برگ فشائیں جنگلات“ کو مانسونی برگ فشائیں ”جنگلات بھی کہا جاتا ہے۔ کیوں؟



14. آبادی کی کثافت سے کیا مراد ہے؟ 
15. متبادلہ نظام کسے کہتے ہیں؟
16. 15 مارچ 1962 عالمی صارفین تحریک کی تاریخ میں ایک اہم دن ہے جسے ”یوم عالمی صارفین کے حقوق پر مناتے ہیں“ وجہ لکھئے۔ 

$$8 \times 2 = 16$$

.III مندرجہ ذیل سوالات کے جوابات دو جملوں میں لکھئے :

17. عہد معاہدت پالیسی کے ذریعہ انگریز ہندوستانی ریاستوں پر قابو کس طرح پاسکے؟ 
18. گواہرنگالیوں سے 1961 میں کس طرح آزاد ہوا؟ 
19. ہندوستان کی خارجہ پالیسی کے اہم مقاصد کیا ہیں؟

یا

سلامتی کونسل کے اہم وجوہات بیان کیجئے۔



20. سماجی پرتوں کے نظام کی اہم شکلیں کیا ہیں؟

یا



کس طرح دیوراج ارس کے اقتدار پر آنے کے بعد بڑے پیمانے پر سماجی تبدیلیوں کا آغاز ہوا؟

21. مغربی گھاٹ اور مشرقی گھاٹ میں کیا فرق ہے ؟

22. مٹی کے کٹاؤ کی وجوہات بیان کیجئے۔

23. ”خواتین کی خود امدادی تنظیمیں“ قائم کی گئیں جس سے خواتین کی حصہ داری کو فروغ دے کر انہیں خود کفیل بنایا جا رہا ہے۔

وجہ بیان کیجئے۔

24. ”آفاقیت سے صارفین کو بہت فائدہ پہنچتا ہے۔“ وضاحت کیجئے۔

$$9 \times 3 = 27$$

IV. مندرجہ ذیل سوالات کے جوابات چھ جملوں میں لکھئے :

25. انگریزی تعلیمی طریقہ کار سے نئے عہد کے ہندوستانی معیار کو ترقی ملی۔ وضاحت کیجئے۔

26. ہلنگی بیڑ ابغاوت پر نوٹ لکھئے۔

یا

آریہ سماج کے مقاصد بیان کیجئے۔

27. ”دوسری جنگ عظیم“ ایک کثیری نقصانات اور تباہیوں والی جنگ تھی۔ واضح کیجئے۔

28. اپنے تاثرات کے ذریعہ بتائیے کہ فرقہ واریت ہندوستانی سماج کا ایک سب سے بڑا مسئلہ ہے۔ اُسے کس طرح حل کیا جاسکتا ہے ؟

29. منظم اور غیر منظم مزدور کے درمیان کیا فرق ہے ؟ واضح کیجئے۔

30. نقل و حمل اور ابلاغ سے کیا مراد ہے ؟

یا

صنعت کی مقامیت پر اثر کرنے والے اہم عوامل کیا ہیں ؟



31. زلزلوں سے بچنے کے لئے احتیاطی اقدامات کونسے ہیں؟ لکھئے۔



32. پنجایت راج کے اداروں کا کردار بیان کیجئے۔

یا



ریزرو بینک آف انڈیا کے اہم کام کونسے ہیں؟

33. ڈاک خانہ سے ملنے والی رقم کی سہولیات کونسی ہیں؟

یا



باصلاحیت صنعت کار کے عمل کی ضروری فہرست بنائیے۔

4 × 4 = 16

.V مندرجہ ذیل سوالات کے جوابات آٹھ جملوں میں لکھئے :



34. ہندوستان کی پہلی جنگ آزادی 1857 کی ناکامی کے اسباب بیان کیجئے۔

35. ڈاکٹر بی آر امبیڈکر نے سماجی آزادی کو ترجیح دی۔ اپنے خیالات بیان کیجئے۔

یا



کس طرح سے انتہا پسندوں نے بڑھ چڑھ کر تحریک آزادی میں حصہ لیا۔ بیان کیجئے۔

36. ہندوستان اور چین کے تعلقات کو سندھوندی کے تہذیب و تمدن اور میسوپوٹومیا کی تہذیب و تمدن کے تعلق سے جوڑا گیا



ہے۔ وضاحت کیجئے۔



37. ہندوستان کی معاشی ترقی کے لئے زراعت ایک اہم ذریعہ ہے۔ بیان کیجئے۔

$$1 + 4 = 5$$

.VI .38 ہندوستان کے نقشہ کا خاکہ بنا کہ بتائیں اور اس میں مندرجہ ذیل کونشان زد کریں :



(a) $23\frac{1}{2}^{\circ}$ خط سرطان وسطی

(b) گوند ساگر

(c) ممبئی ہائی



(d) توٹکوڑی



ناپینا امیدواروں کے لیے متبادل سوال: (سوال نمبر 38 کی جگہ)

5



ہمہ مقصدی دریائی منصوبہ کے اہم مقاصد کیا ہیں؟

